

Olympiad 2019

Class 2

Important Information

- All questions carry equal weightage.
- 10 minutes are provided for filling the OMR sheet and reading the instructions.
- Exam duration is 1 hour only.
- Please ensure that this question paper has 50 questions.
- It is divided into the following sections –
 - For class 1st to 5th: Mathematics, Science, English and General Knowledge
 - For class 6th to 10th: Mathematics, English, Science, General Knowledge and Logical Reasoning
- Every question has one correct answer.
- Please read the instructions for answering given on the OMR sheet.
- Candidates must submit a completely filled OMR sheet before leaving the hall.
- There is no negative marking.

Section A- Mathematics

1. There are 14 cats, 18 dogs and 12 rats. How many animals are there altogether?

14 बिल्लियाँ, 18 कुत्ते और 12 चूहे हैं। कुल मिलाकर कितने जानवर हैं?

- a. 34
- b. 38
- c. 44
- d. 46

2. There are 656 students in a school. 324 of them are boys. How many girls are there in the school?

एक स्कूल में 656 छात्र हैं। उनमें से 324 लड़के हैं। स्कूल में कितनी लड़कियाँ हैं?

- a. 432
- b. 332

- c. 880
- d. 980

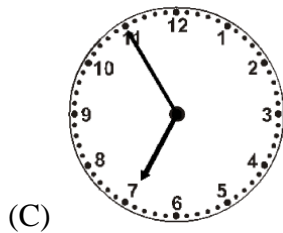
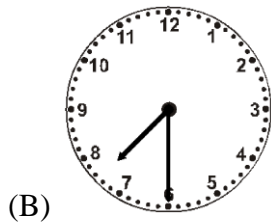
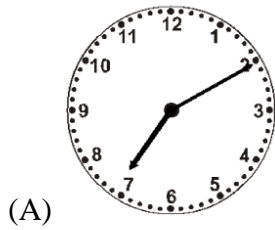
3. Find the sum: $36 + 24 + 6 =$ _____

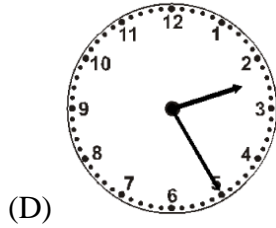
राशि ज्ञात कीजिए: $36 + 24 + 6 =$ _____

- a. 62
- b. 64
- c. 66
- d. 68

4. Which of the following clock reads 7:10?

निम्नलिखित में से कौन सी घड़ी 7:10 दिखाती है?





5. What is the shape of this birthday cap?



- a. Cylinder
- b. Square
- c. Circle
- d. Cone

इस जन्मदिन की टोपी का आकार क्या है?

- a. सिलेंडर
- b. वर्ग
- c. वृत्त
- d. शंकु

6. Solve: $2 \times 3 \times 4 =$ _____

इसे हल करें: $2 \times 3 \times 4 =$ _____

- a. 24
- b. 18
- c. 16
- d. 32

7. Ravi is 10 cm shorter than Aditya.

If Aditya is 178 cm tall, what is the height of Ravi?

रवि आदित्य से 10 सेमी छोटा है।

यदि आदित्य 178 सेमी लंबा है, तो रवि की ऊंचाई क्या है?

- a. 188 cm
- b. 178 cm
- c. 168 cm
- d. 78 cm

8. A bag of fruits contains 6 apples. How many apples would a person have if he has 7 such bags?

फलों के एक बैग में 6 सेब हैं। एक व्यक्ति के पास कितने सेब होंगे यदि उसके पास ऐसे 7 बैग हैं?



- a. 32 apples
- b. 36 apples
- c. 40 apples
- d. 42 apples

9. Sonu leaves for the school at 7:30 a.m and comes back to his home after 6 hours 15 minutes. When did he reach home?

सोनू सुबह 7:30 बजे स्कूल के लिए निकलता है और 6 घंटे 15 मिनट के बाद अपने घर वापस आता है। वह घर कब पहुंचा?

- a. 1:15 p.m
- b. 1:45 p.m
- c. 1:15 a.m
- d. 1:45 a.m

10. Find the missing number.

लापता संख्या का पता लगाएं।

$$5 \times \square = 45$$

- a. 6
- b. 8
- c. 9
- d. 13

11. A rectangle has _____ sides.

एक आयत में _____ पक्ष होते हैं।

- a. 3
- b. 4
- c. 5
- d. 6

12. There are 121 blue cars and 96 red cars in a parking lot. Find the total number of cars.

पार्किंग में 121 नीली कार और 96 लाल कारें हैं। कारों की कुल संख्या ज्ञात कीजिए।

- a. 207
- b. 217
- c. 225
- d. 227

13. There are 32 *ladoos* in a box of sweets. Mayank eats 7 *ladoos* in the morning and 3 more *ladoos* in the evening. How many *ladoos* are left in the box?

मिठाई के एक डिब्बे में 32 लड्डू होते हैं। मयंक सुबह 7 लड्डू और शाम को 3 और लड्डू खाता है। बॉक्स में कितने लड्डू बचे हैं?



- a. 29
- b. 28
- c. 25
- d. 22

14. There are 27 identical cars in a workshop. If each car needs 4 wheels, how many wheels are required for all of them?

एक कार्यशाला में 27 समान कारें हैं। यदि प्रत्येक कार को 4 पहियों की आवश्यकता है, तो उन सभी के लिए कितने पहियों की आवश्यकता है?

- a. 54 wheels
- b. 76 wheels
- c. 98 wheels
- d. 108 wheels

15. Rohan goes to a store with a 500 rupee note. He spends 276 rupees on goodies. How much money is he left with?

500 रुपये के नोट के साथ रोहन एक दुकान पर जाता है। वह उपहार पर 276 रुपये खर्च करता है। उसके पास कितना पैसा बचा है?

- a. 324
- b. 276
- c. 224
- d. 176

Section B – Science

16. The person in the given figure is a/an _____

दिए गए चित्र में व्यक्ति को पहचानें?



- a. Fireman
- b. Police
- c. Doctor
- d. Plumber

17. Which is the national animal of India?

भारत का राष्ट्रीय पशु कौन सा है?



a.



b.



c.



d.

18. Which is the largest organ in the human body?

- a. Nose
- b. Eyes

- c. Skin
- d. Ears

मानव शरीर का सबसे बड़ा अंग कौन सा है?

- a. नाक
- b. आंखें
- c. त्वचा
- d. कान

19. We eat breakfast in the _____

- a. Morning
- b. Afternoon
- c. Evening
- d. Night

हम _____ में नाश्ता खाते हैं।

- a. सुबह
- b. दोपहर
- c. शाम
- d. रात

20. Which of these is not a body building food?

इनमें से कौन सा शरीर सौष्ठव भोजन नहीं है?



a.



b.



c.



d.

21. Where do Christians go to pray?

ईसाई प्रार्थना करने कहां जाते हैं?



a.



b.



c.



d.

22. Choose the fastest moving animal in the world.

- a. Lion
- b. Brown rabbit
- c. Cheetah
- d. Kangaroos

दुनिया में सबसे तेज दौड़ने वाला जानवर चुनें।

- a. शेर

- b. भूराखरगोश
- c. चीता
- d. कंगारू

23. Nishank ate some unhygienic food for dinner. What will happen to him?





- a. He will feel more energetic
- b. He will vomit
- c. He will feel hungrier
- d. All of the above

निशंक ने कुछ अनहेल्दी खाना खाया। उसका क्या होगा?

- a. वह अधिक ऊर्जावान महसूस करेगा
- b. वह उल्टी कर देगा
- c. उसे और भी भूख लगेगी
- d. ऊपर के सभी

24. In which of the following weather condition, we will wear woolen clothes?

निम्नलिखित में से किस मौसम की स्थिति में, हम ऊनी कपड़े पहनेंगे?

- a. 
- b. 
- c. 
- d. 

25. Which of the following is the fastest mode of transportation?

- a. Train
- b. Airplane
- c. Ship
- d. Car

निम्नलिखित में से कौन सा यात्रा करने का सबसे तेज़ तरीका है?

- a. रेलगाडी
- b. विमान
- c. समुंद्री जहाज
- d. गाड़ी

26. Earth is a blue planet because _____

- a. It has a blue surface
- b. The sky looks blue from the earth
- c. Its three-fourth part is covered with water
- d. The colour of the water is blue

पृथ्वी एक नीला ग्रह है क्योंकि _____

- a. इसकी एक नीली सतह है।
- b. आकाश पृथ्वी से नीला दिखता है।
- c. इसका तीन-चौथाई हिस्सा पानी से ढका हुआ है।
- d. पानी का रंग नीला है।

27. Haider ate chapatti and felt hot. Which of the following sense organ did he use?

- a. Ear
- b. Skin
- c. Tongue
- d. Eye

हैदर ने चपाती खाई और गर्म महसूस किया। उसने निम्नलिखित में से किस अंग का उपयोग किया?

- a. कान

- b. त्वचा
- c. जुबान
- d. आंख

28. Which option will give you all the indoor activities?




- a. Ludo, carom, cycling
- b. Chess, table tennis, cricket
- c. Football, watching television, dancing
- d. Carrom, chess, table tennis

कौन सा विकल्प आपको सभी इनडोर गतिविधियां देगा?

- a. लूडो, कैरम, साइकिलिंग
- b. शतरंज, टेबलटेनिस, क्रिकेट
- c. फुटबॉल, टेलीविजन देखना, नृत्य करना
- d. कैरम, शतरंज, टेबलटेनिस

29. From the following people shown in figures, select the one whose job is to catch the thieves and maintain law and order.

आंकड़ों में दिखाए गए निम्न लोगों में से, वह चुनें, जिसका काम चोरों को पकड़ना और कानून व्यवस्था बनाए रखना है।

- a. 
- b. 
- c. 



30. Ram is driving his car. At a crossing, the traffic light shows a red signal. What should he do?

- a. He should stop.
- b. He should go.
- c. He should wait until the signal turns orange.
- d. He should slow down the speed of the car.

राम अपनी कार चला रहे हैं। एक क्रॉसिंग पर, ट्रैफिक लाइट एक लाल सिग्नल दिखाती है। उसे क्या करना चाहिए?

- a. उसे रुकना चाहिए।
- b. उसे जाना चाहिए।
- c. उसे तब तक इंतजार करना चाहिए जब तक सिग्नल नारंगी न हो जाए।
- d. उसे गाड़ी की गति धीमी कर देनी चाहिए।

Section C- English

31. Sohan is my friend. _____ is very intelligent.

- a. He
- b. She
- c. We
- d. They

32. The boy is _____



- a. singing
- b. sleeping

- c. studying
- d. playing

33. Identify the noun that describes the picture.



- a. Engineer
- b. Fireman
- c. Doctor
- d. Judge

34. Complete this sentence with the correct noun.

Aastha reads many _____.

- a. Table
- b. Ball
- c. Shirts
- d. Books

35. Identify the verb that describes the picture.



- a. Clean
- b. Run
- c. Wake up
- d. Swim

36. Identify the noun that describes the picture.



- a. Radio
- b. Television
- c. Newspaper
- d. Calculator

37. Identify the verb that describes the picture.



- a. Laugh
- b. Cry
- c. Shout
- d. Run

38. Choose the plural form of the countable noun: WOLF

- a. Wolfs
- b. Wolfes
- c. Wolve
- d. Wolves

39. Choose the sentence where the bold word is a verb.

- a. Ria trip on **a** rock.
- b. Ria and Tia **follow** the road.
- c. Ria **and** Tia walks into the woods

d. Ria helps **Tia**.

40. Choose the uncountable noun.

I don't like milk.

- a. Don't
- b. Like
- c. Milk
- d. I

Section D – General Knowledge

41. How many continents are there in the world?

दुनिया में कितने महाद्वीप हैं?

- a. 1
- b. 3
- c. 5
- d. 7

42. National fruit of India is _____.

भारत का राष्ट्रीय फल _____ है।



a.



b.



c.



d.

43. How many minutes are there in an hour?

एक घंटे में कितने मिनट होते हैं?

- a. 24 minutes
- b. 60 minutes
- c. 30 minutes
- d. 120 minutes

44. Which of the following is the biggest sea animal?

- a. Shark
- b. Blue whale
- c. Starfish
- d. Dolphins

निम्नलिखित में से कौन सबसे बड़ा समुद्री जानवर है?

- a. शार्क
- b. नीलीव्हेल
- c. एक प्रकार की मछली जिसको पाँच – सात बाहु के सदृश अंग होते हैं
- d. डाल्फिन

45. Which sport does Saina Nehwal play?

- a. Cricket
- b. Table Tennis
- c. Badminton
- d. Football

साइना नेहवाल किस खेल में खेलती हैं?

- a. क्रिकेट
- b. टेबल टेनिस

- c. बैडमिंटन
- d. फुटबॉल

46. Which is the biggest water body?

- a. Lake
- b. Ocean
- c. River
- d. Pond

सबसे बड़ा जल निकाय कौन सा है?

- a. झील
- b. सागर
- c. नदी
- d. तालाब

47. JawaharLal Nehru's birthday is celebrated as _____.

- a. Children's day
- b. Teacher's day
- c. Martyr's day
- d. Environment day

जवाहर लाल नेहरू का जन्मदिन _____ के रूप में मनाया जाता है

- a. बाल दिवस
- b. शिक्षक दिवस
- c. शहीद दिवस
- d. पर्यावरण दिवस

48. "The Great Wall" is located in _____.

- a. Argentina
- b. India
- c. China
- d. Europe

"द ग्रेट वॉल" _____ में स्थित है।

- a. अर्जेटीना
- b. इंडिया
- c. चीन
- d. यूरोप

49. _____ is the root of the plant that we eat as vegetable.

- a. Brinjal
- b. Carrot
- c. Sugarcane
- d. Tomatoes

_____ पौधे की जड़ है जिसे हम सब्जी के रूप में खाते हैं।

- a. बैंगन
- b. गाजर
- c. गन्ना
- d. टमाटर

50. The national tree of India is _____.

- a. Mango tree
- b. Eucalyptus
- c. Banyan tree
- d. Mahogany

भारत का राष्ट्रीय वृक्ष _____ है।

- a. आम का पेड़
- b. युकलिप्टस
- c. बरगद का पेड़
- d. महोगनी वृक्ष